





Resolviendo problemas 1

Lee y resuelve cada uno de los siguientes problemas.



1. Todos los jueves, veo mi programa de TV favorito entre las 6:00 y las 7:30 de la tarde.
¿Cuánto dura el programa?
Marca la hora de inicio y de término del programa.



Calcula cuánto dura el programa.

Respuesta: El programa dura _____



2. Mi familia y yo llegamos al paseo a las 12 del día. Habíamos salido 2:30 antes desde la casa. ¿A qué hora partimos el viaje?
Marca la hora de llegada al paseo y la hora de salida desde la casa.



Calcula a qué hora partieron desde la casa.

Respuesta: Desde la casa partimos a las _____

3. Estaba tan cansado que el domingo dormí siesta desde las 3:00 hasta las 5:30 de la tarde. ¿Cuánto tiempo dormí?
Marca la hora en que te quedaste dormido y la hora en que despertaste.



Calcula cuánto tiempo dormiste.

Respuesta: Dormí _____