










Analizando el tiempo atmosférico durante una semana

1. Observa y lee.

	DÍA						
	Lunes	Martes	Miércoles	Jueves	Viernes	Sábado	Domingo
TIEMPO							
	15°C	13°C	11°C	9°C	11°C	12°C	16°C

2. Responde:

- ¿Qué día hizo más calor? _____
- ¿Cuántos grados hizo? _____
- ¿Qué día hizo más frío? _____
- ¿Cuántos grados hizo? _____
- ¿Cuántos días llovió? _____
- ¿Cuántos días soleados hubo? _____
- ¿Cuántos días parcial nublado hubo? _____
- ¿Cuántos grados de temperatura hubo de diferencia entre el día que hizo más frío y el día que hizo más calor? _____
- ¿A qué estación del año crees que corresponde este registro? _____

- ¿Por qué? _____

¡Coméntalo en tu clase!