






Seres vivos


1. Enumera los dibujos del 1 al 4 según el desarrollo de una planta.






2. Marca con una X las imágenes de los niños y niñas que cuidan su cuerpo.




3. Ubica las partes de una planta. Escribe los nombres en las líneas.



4. Une con una línea el alimento que le corresponde a cada ser vivo.




5. Observa las imágenes y completa las oraciones



a) Su cuerpo está cubierto de _____

b) Se alimenta de _____


c) Se desplaza _____



a) Su cuerpo está cubierto de _____

b) Se alimenta de _____

c) Se desplaza _____



a) Su cuerpo está cubierto de _____

b) Se alimenta de _____

c) Se desplaza _____

Pauta de corrección

Respuestas correctas:

1. Orden de los dibujos: 2 – 4 – 3 – 1

4 puntos

2. Las imágenes de los niños que cuidan su cuerpo: 1 y 3

2 Puntos

3. Partes de la planta: 1. Flor; 2. Tallo; 3. Hojas; 4. Raíces

4 Puntos

4. Asociaciones:

Vaca – pasto

Mamá – pollo

Perro – comida mi perro

Plantas – agua

4 puntos

5. Completando oraciones:

León

Su cuerpo está cubierto de pelos.

Se alimenta de otros animales o seres vivos.

Se desplaza caminando.

3 puntos

Tiburón

Su cuerpo está cubierto de escamas.

Se alimenta de carne.

Se desplaza nadando.

3 puntos

Gorrión

Su cuerpo está cubierto de plumas.

Se alimenta de semillas o granos, también de insectos.

Se desplaza volando.

3 puntos

Puntaje total: 23 puntos