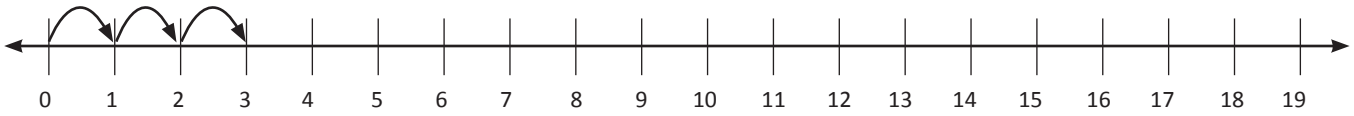




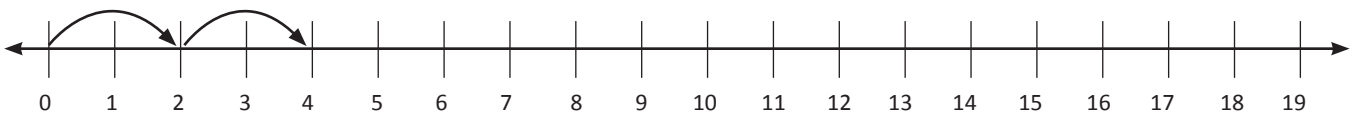
Usando rectas numéricas

1. Salta avanzando de uno en uno. Usa un lápiz de color. Escribe los números que faltan.



1, 2, _____, _____, _____, _____, _____, _____, _____, _____, _____, _____, _____, _____

2. Salta avanzando de dos en dos. Usa un lápiz de color. Escribe los números que faltan.



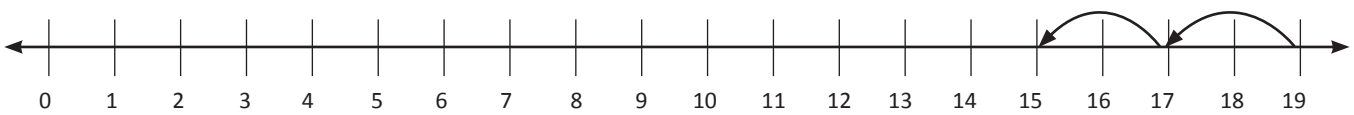
2, 4, _____, _____, _____, _____, _____, _____, _____, _____, _____, _____, _____, _____

3. Salta retrocediendo de uno en uno. Usa un lápiz de color. Escribe los números que faltan.



19, 18, _____, _____, _____, _____, _____, _____, _____, _____, _____, _____, _____, _____

4. Salta retrocediendo de dos en dos. Usa un lápiz de color. Escribe los números que faltan.



19, 17, _____, _____, _____, _____, _____, _____, _____, _____, _____, _____, _____, _____