




Desafío

1. Ana está haciendo ejercicios.

1°




2°



3°



4°




5°



6°



¿Cuál es el ejercicio que hará en el octavo lugar? Márcalo con una X.



2. ¿Cuántos cubos hay que agregar a las balanzas para que estén en equilibrio? Completa los dibujos.

