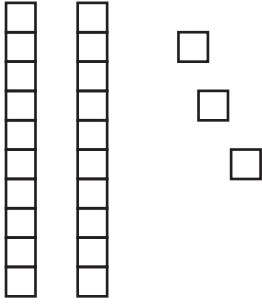


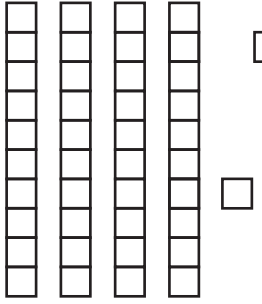


Decenas y unidades

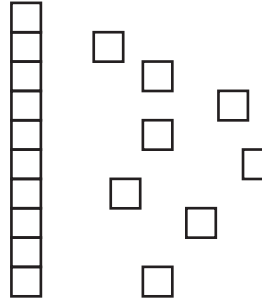
Cuenta cuántas decenas y unidades hay en cada caso. Sigue el ejemplo.

1) 

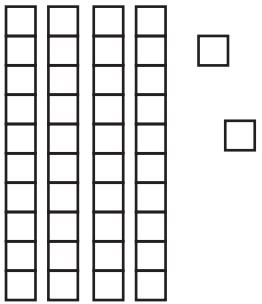
Decenas: _____
Unidades sueltas: _____
Unidades en total: _____

2) 

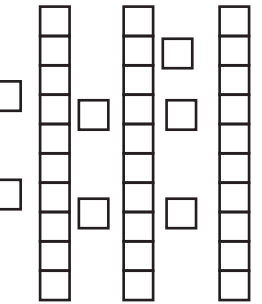
Decenas: _____
Unidades sueltas: _____
Unidades en total: _____

3) 


Decenas: _____
Unidades sueltas: _____
Unidades en total: _____

4) 


Decenas: _____
Unidades sueltas: _____
Unidades en total: _____

5) 

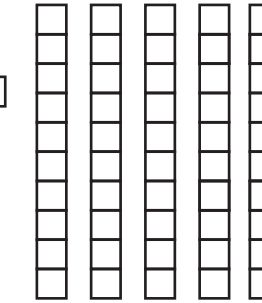
Decenas: _____
Unidades sueltas: _____
Unidades en total: _____

6) 

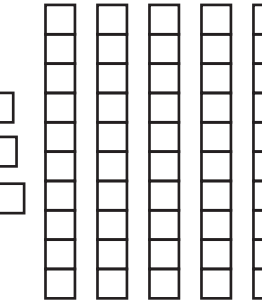
Decenas: _____
Unidades sueltas: _____
Unidades en total: _____

7) 

Decenas: _____
Unidades sueltas: _____
Unidades en total: _____

8) 

Decenas: _____
Unidades sueltas: _____
Unidades en total: _____

9) 

Decenas: _____
Unidades sueltas: _____
Unidades en total: _____